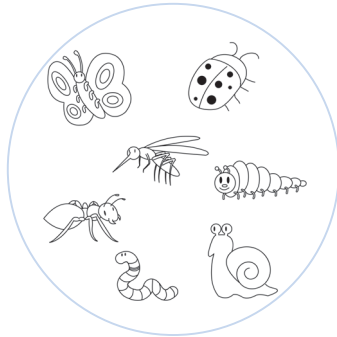


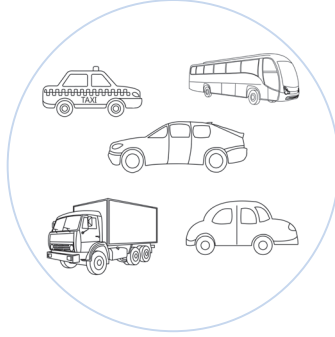
# Evaluación diagnóstica

Nombre: \_\_\_\_\_ Paralelo: \_\_\_\_\_ Fecha: \_\_\_\_\_


1. ¿Qué elementos contiene cada conjunto? **Escribe.**



animales





vehículos



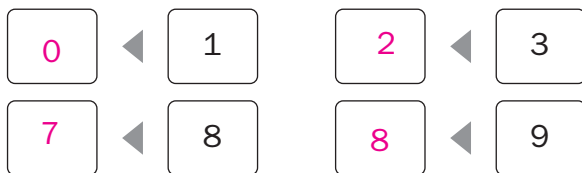
frutas

2. **Marca** el elemento que no pertenece al conjunto.

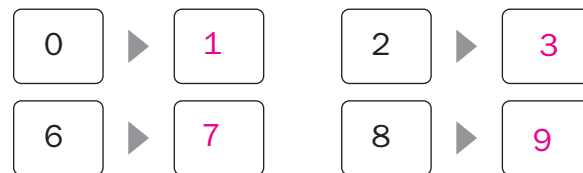


3. **Completa** con el número faltante.

El número antecesor



El número sucesor



4. **Lee** y **anota** los números.

a) Veinticinco ➤

b) Treinta y ocho ➤

c) Cuarenta y tres ➤

d) Cuarenta y nueve ➤

e) Veintiuno ➤

f) Treinta y tres ➤