
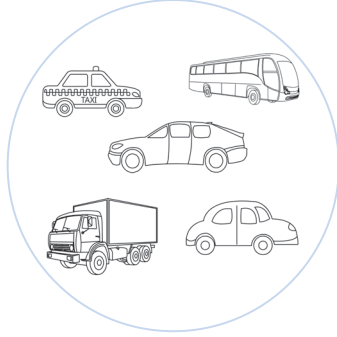



Evaluación diagnóstica

Nombre: _____ Paralelo: _____ Fecha: _____

1. ¿Qué elementos contiene cada conjunto? **Escribe.**







2. **Marca** el elemento que no pertenece al conjunto.



3. **Completa** con el número faltante.

El número antecesor

<input type="text"/>	◀	1	<input type="text"/>	◀	3
<input type="text"/>	◀	8	<input type="text"/>	◀	9

El número sucesor

0	▶	<input type="text"/>	2	▶	<input type="text"/>
6	▶	<input type="text"/>	8	▶	<input type="text"/>

4. **Lee y anota** los números.

a) Veinticinco ▶

b) Treinta y ocho ▶

c) Cuarenta y tres ▶

d) Cuarenta y nueve ▶

e) Veintiuno ▶

f) Treinta y tres ▶