




Taller de matemática

Nombre: _____ Paralelo: _____ Fecha: _____

1. Observa y completa.

¿Cuánto valen las figuras?

+			8
	4	3	
<hr/>			
	5	5	9

➔

+	1	2	8
	4	3	1
<hr/>			
	5	5	9

- Sumamos las unidades.

$$8 + \text{bus} = 9 \Rightarrow 9 - 8 = 1$$

Entonces  = 1

- Sumamos las decenas.

$$\text{dog} + 3 = 5 \Rightarrow 5 - 3 = 2$$





Entonces  = 2

- Sumamos las centenas, reemplazando el valor del 

Entonces $1 + 4 = 5$


- Los valores son:  + _____  + _____


2. Descubre el valor de las figuras.




+		4	
			6
<hr/>			
	3	5	8

➔

+		4	
			6
<hr/>			
	3	5	8


 = _____


 = _____

+		5	7
	3		6
<hr/>			
	5	9	

➔

+		5	7
	3		6
<hr/>			
	5	9	

 = _____

 = _____