



Evaluación diagnóstica

Nombre: _____ Paralelo: _____ Fecha: _____

1. Reparte en partes iguales.


- 12 paletas para 3 niños.



2. Colorea la mitad de cada grupo de animales y completa.



La mitad de es .



La mitad de es .

3. Lee y resuelve.

- Diego y Lucía pagaron Bs 80 en el cine. Si cada uno puso la mitad, ¿cuánto pagó Lucía?

Lucía pagó 40.

