


Evaluación final

Nombre: _____ Paralelo: _____ Fecha: _____

1. Reparte en partes iguales y completa.

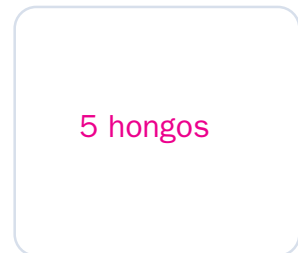
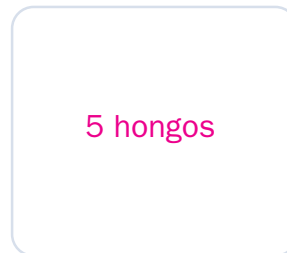
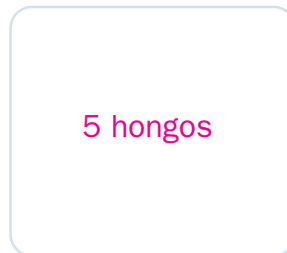

- 12  en 3 recuadros



$$12 \div 3 = \underline{4}$$

En cada recuadro hay 4 tomates.

- 15  en 3 recuadros



$$15 \div 3 = \underline{5}$$

En cada recuadro hay 5 hongos.

2. Realiza las divisiones y compruébalas.

$$35 \div 7 = \underline{5} \rightarrow \underline{5} \times \underline{7} = \underline{35}$$

$$45 \div 9 = \underline{5} \rightarrow \underline{5} \times \underline{9} = \underline{45}$$

$$28 \div 4 = \underline{7} \rightarrow \underline{7} \times \underline{4} = \underline{28}$$

$$48 \div 6 = \underline{8} \rightarrow \underline{8} \times \underline{6} = \underline{48}$$

$$16 \div 2 = \underline{8} \rightarrow \underline{8} \times \underline{2} = \underline{16}$$

3. Colorea según se indica y completa.

- La mitad.



La mitad de 16 es 8 porque $\underline{16} \div \underline{2} = \underline{8}$

- La tercera parte.



La tercera parte de 12 es 4 porque $\underline{12} \div \underline{3} = \underline{4}$