



Evaluación final

Nombre: _____ Paralelo: _____ Fecha: _____

1. Reparte en partes iguales y completa.

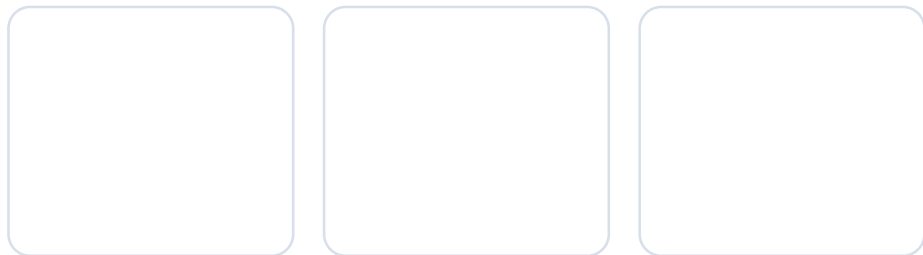

- 12  en 3 recuadros



$12 \div 3 = \underline{\quad}$

En cada recuadro hay _____ tomates.

- 15  en 3 recuadros



$15 \div 3 = \underline{\quad}$

En cada recuadro hay _____ hongos.

2. Realiza las divisiones y compruébalas.

$35 \div 7 = \underline{\quad} \rightarrow \underline{\quad} \times \underline{\quad} = \underline{\quad}$

$45 \div 9 = \underline{\quad} \rightarrow \underline{\quad} \times \underline{\quad} = \underline{\quad}$

$28 \div 4 = \underline{\quad} \rightarrow \underline{\quad} \times \underline{\quad} = \underline{\quad}$

$48 \div 6 = \underline{\quad} \rightarrow \underline{\quad} \times \underline{\quad} = \underline{\quad}$

$16 \div 2 = \underline{\quad} \rightarrow \underline{\quad} \times \underline{\quad} = \underline{\quad}$

3. Colorea según se indica y completa.

- La mitad.



La mitad de 16 es _____ porque _____ \div _____ = _____

- La tercera parte.



La tercera parte de _____ es _____ porque _____ \div _____ = _____