

Taller de matemática

Nombre: _____ Paralelo: _____ Fecha: _____

1. Lee y completa.

Halla el número de fotos de estrellas que tiene Luis, si:

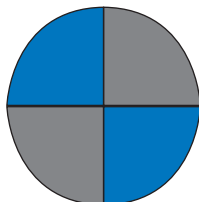
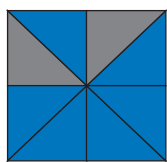
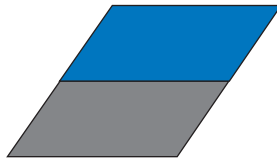
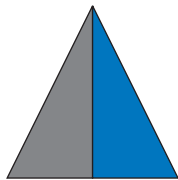
- Laura tiene 10 fotos de estrellas.
- Carlos tiene 2 fotos de estrellas más que Laura.
- Inés tiene la mitad de fotos de estrellas de Carlos.
- Luis tiene la tercera parte de las que tiene Inés.



Luis tiene _____ fotos de estrellas.

2. Lee y rodea las figuras que han coloreado los niños.

Mis figuritas son las que tienen la mitad pintada de un color y la mitad de otro.



Mis figuras son las que tienen la tercera parte pintada de rojo.

