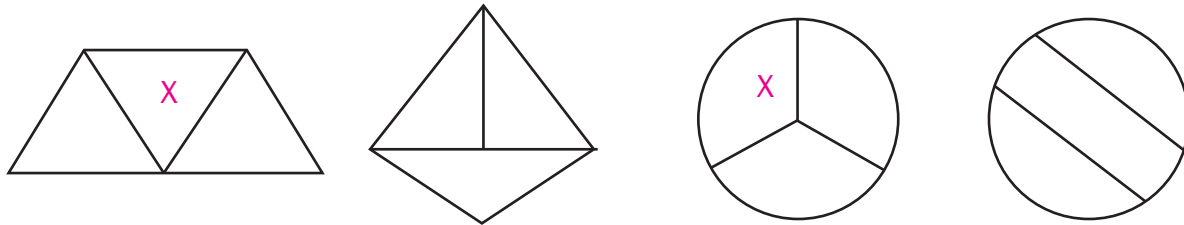


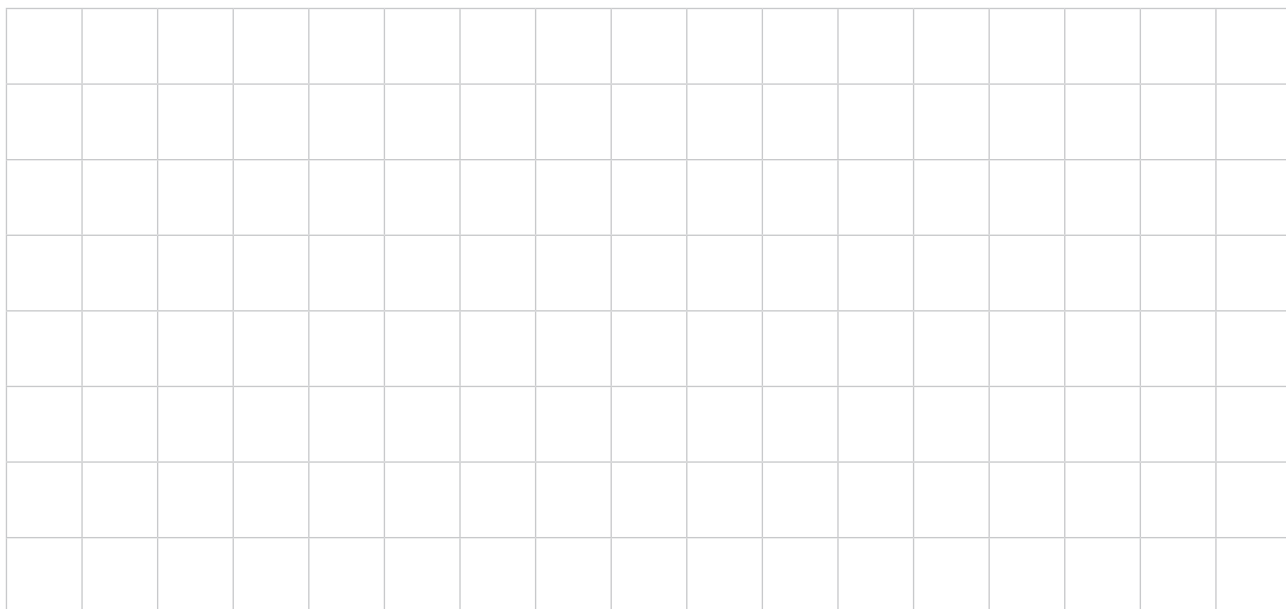
# Evaluación diagnóstica

Nombre: \_\_\_\_\_ Paralelo: \_\_\_\_\_ Fecha: \_\_\_\_\_

1. **Colorea** las figuras que estén divididas en partes iguales.




2. **Dibuja** cuadrados y rectángulos. Luego, **divídelos** en partes iguales. **Respuesta libre**



3. **Lee y colorea.**

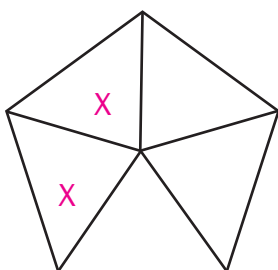
a) Colorea tres partes del rectángulo



c) Colorea cinco partes del rectángulo.



b) Colorea dos partes del pentágono



d) Colorea una parte del triángulo

