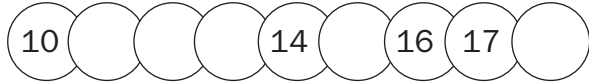



Evaluación final

Nombre: _____ Paralelo: _____ Fecha: _____

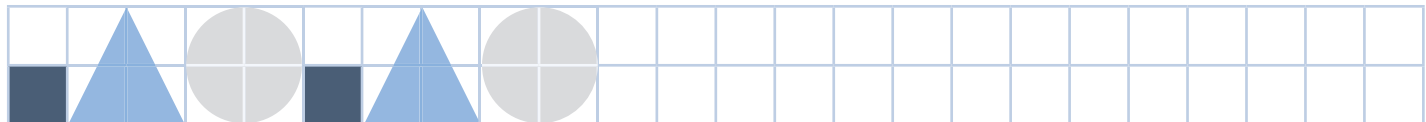
1. Encuentra el o los patrones y **sigue** las secuencias.



2. Cuenta y **completa** los patrones numéricos.




3. **Dibuja** para continuar el patrón.




4. **Lee y colorea.**

a) Un medio de la estrella.



b) Un tercio del cuadrado



c) Un cuarto del círculo

