





Evaluación diagnóstica

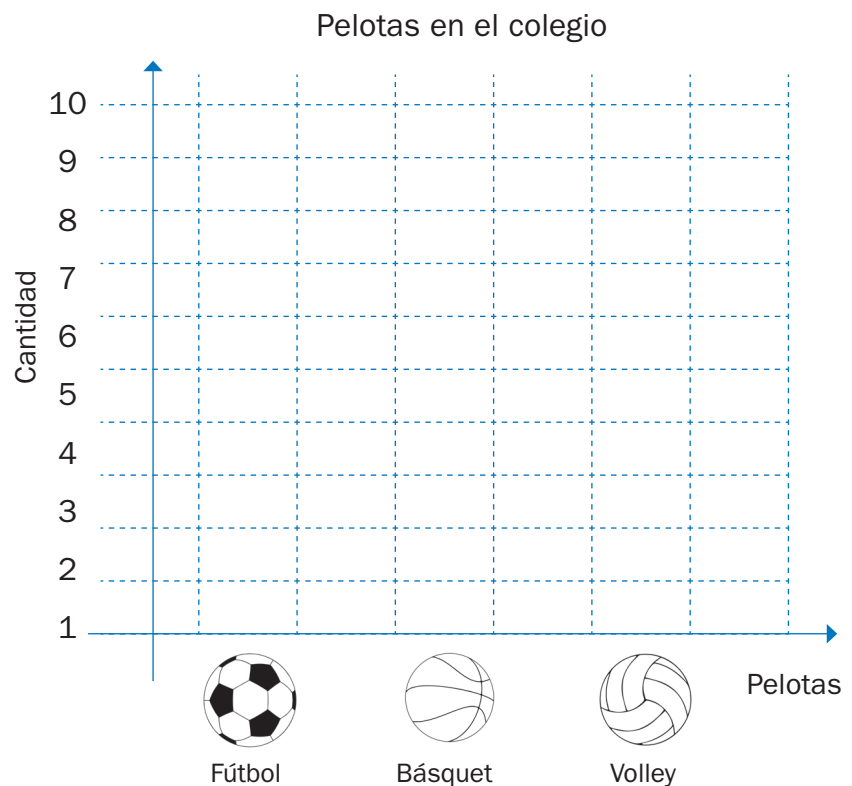
Nombre: _____ Paralelo: _____ Fecha: _____

1. **Cuenta y completa** la tabla. ¿Cuántas flores de cada tipo hay?

Flor	Conteo	Total
Margarita 		
Rosa 		
Tulipán 		



2. **Completa** el gráfico de barras. Luego, **responde**.



- ¿Cuántas pelotas de cada tipo hay?
Fútbol _____ Básquet _____ Volley _____
- ¿Qué pelotas hay en mayor cantidad? _____
- ¿Y en menor cantidad? _____