




Evaluación diagnóstica

Nombre: _____ Paralelo: _____ Fecha: _____

1. Completa la tabla con las representaciones de cada número o con el número correspondiente.

Número	Centenas	Decenas	Unidades
538			
			
204			

2. Responde, ¿qué número es?

- a) Tiene 3 unidades, 4 decenas y 8 centenas: _____
- b) Es la suma de $500 + 90 + 7$: _____
- c) Tiene 5 decenas y 7 centenas: _____

3. Pinta con color azul los carteles que tengan números mayores que 354 y con color verde los que tengan números menores que 326.

394


297

406

349

312

4. Observa cómo terminó la carrera de atletismo. Luego, responde.



- a) ¿Quién llegó de primero en la carrera? _____
- b) ¿Quién llegó de tercero? _____
- c) ¿En qué puesto llegó Juan? _____