

# Evaluación diagnóstica

Nombre: \_\_\_\_\_ Paralelo: \_\_\_\_\_ Fecha: \_\_\_\_\_

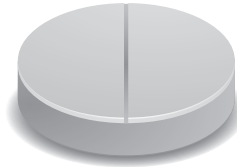
1. Encierra la unidad de medida de longitud más apropiada.

a)



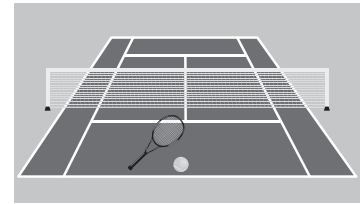
m      cm      mm

b)



m      cm      mm

c)



m      cm      mm


2. Completa las equivalencias.

a)



1 kg = \_\_\_\_\_ medio kilogramo = \_\_\_\_\_ cuartos de kilogramo

b)



1 l = \_\_\_\_\_ medio kilogramo = \_\_\_\_\_ cuartos de kilogramo

3. Calcula los productos y cocientes.

a)  $5,7 \times 10 =$

d)  $184 \div 10 =$

g)  $0,87 \times 100 =$

b)  $45,8 \times 100 =$

e)  $329 \div 100 =$

h)  $7 \div 100 =$

c)  $0,75 \times 1000 =$

f)  $2,4 \div 1000 =$

i)  $1526 \div 1000 =$

4. Dibuja en la cuadrícula lo que se indica.

a) Un cuadrado que contenga 25 cuadritos.

b) Un rectángulo que contenga 35

