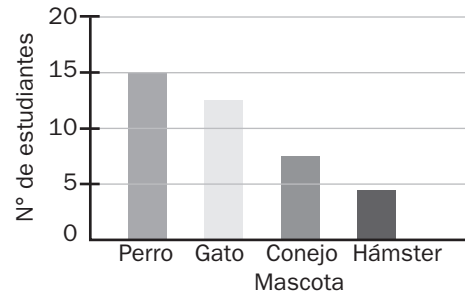


Evaluación final

Nombre: _____ Paralelo: _____ Fecha: _____

1. ¿Cuántos estudiantes fueron encuestados?

Respuesta: Fueron encuestados 40 estudiantes.



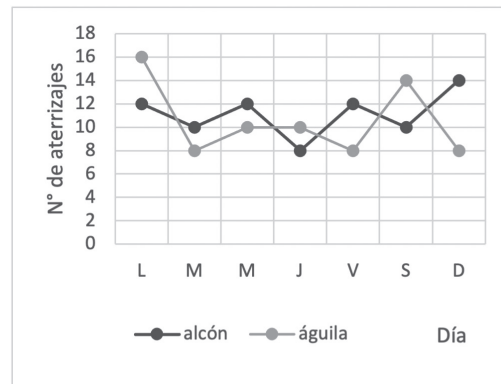
2. ¿Cuántos estudiantes prefieren el perro más que hámster?

Respuesta: Son 11 los estudiantes que prefieren el perro más que el hámster.

El gráfico de líneas muestra el número de aterrizajes de dos aerolíneas durante una semana.

3. ¿Cuántos aviones de la aerolínea Alcón, aterrizaron el domingo más que el martes?

Respuesta: Fueron 4 aviones mas que el martes.

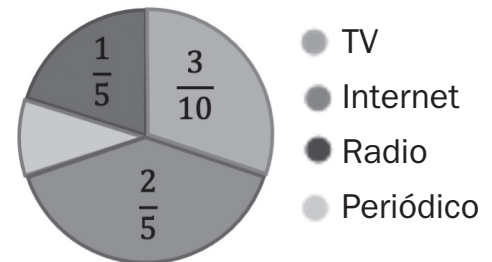


4. ¿Qué día hubo más aterrizajes en la aerolínea Águila?

Respuesta: El día que hubo más aterrizajes fue el lunes.

El gráfico de sectores muestra los medios por los cuales las personas se informan de las últimas noticias.

5. Sí quisiéramos presentar una noticia y llegar a la mayor cantidad de gente, ¿qué medio debemos utilizar?



Respuesta: El medio que se podría utilizar, sería mediante internet.

6. ¿Cuál es la frecuencia relativa de la cantidad de personas encuestadas que se informan mediante el periódico?

Respuesta: La frecuencia relativa de la cantidad de personas encuestadas que se informan mediante el periódico son $\frac{1}{10}$.