

Evaluación final

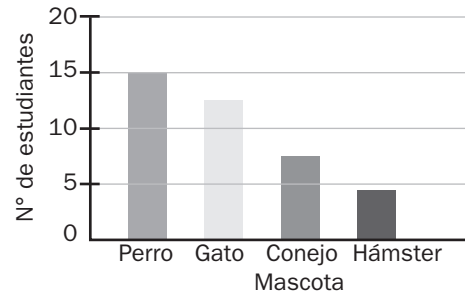
Nombre: _____ Paralelo: _____ Fecha: _____

1. ¿Cuántos estudiantes fueron encuestados?

Respuesta: _____

2. ¿Cuántos estudiantes prefieren el perro más que hámster?

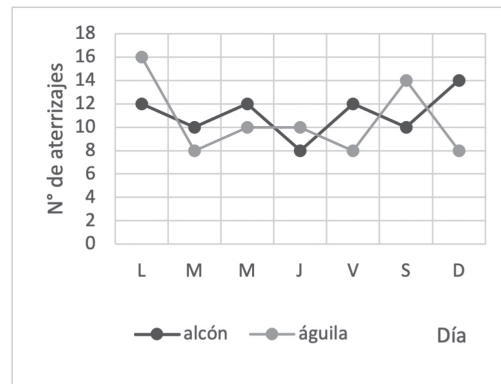
Respuesta: _____



El gráfico de líneas muestra el número de aterrizajes de dos aerolíneas durante una semana.

3. ¿Cuántos aviones de la aerolínea Alcón, aterrizaron el domingo más que el martes?

Respuesta: _____

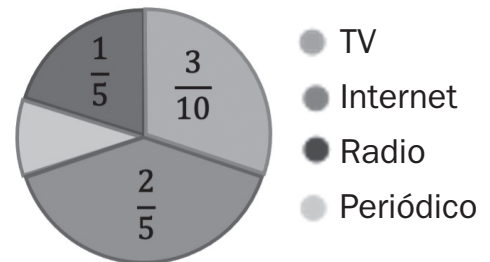


4. ¿Qué día hubo más aterrizajes en la aerolínea Águila?

Respuesta: _____

El gráfico de sectores muestra los medios por los cuales las personas se informan de las últimas noticias.

5. Sí quisiéramos presentar una noticia y llegar a la mayor cantidad de gente, ¿qué medio debemos utilizar?



Respuesta: _____

6. ¿Cuál es la frecuencia relativa de la cantidad de personas encuestadas que se informan mediante el periódico?

Respuesta: _____